

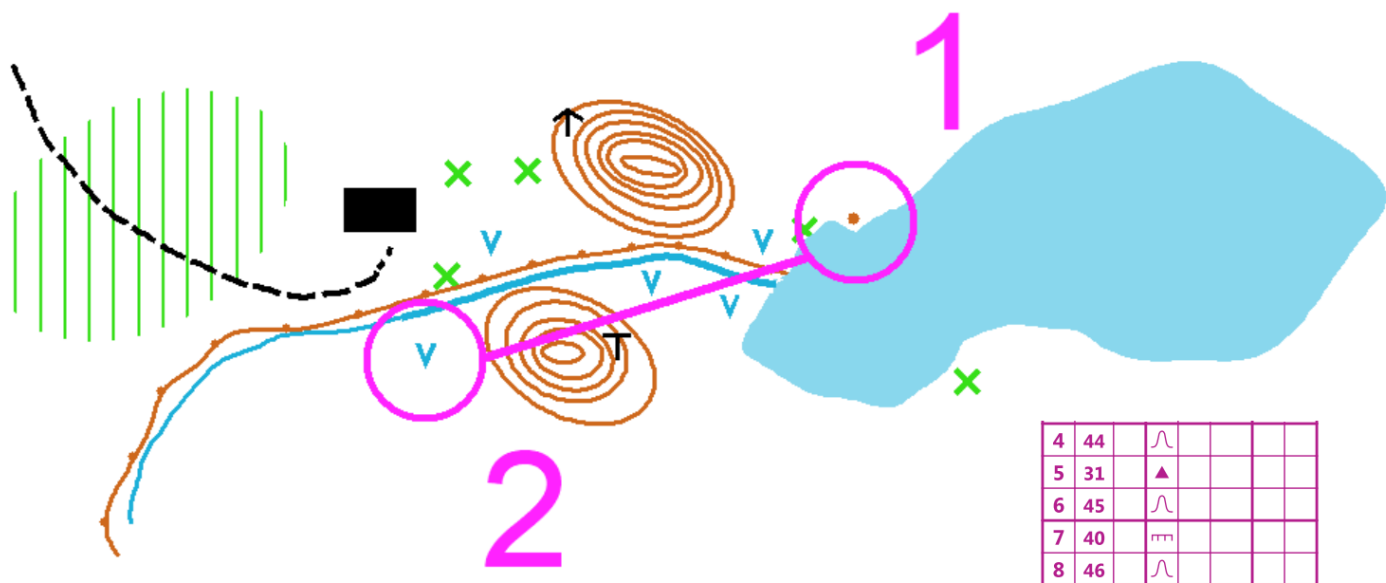
## Pamięciówka

Zadanie z zaufaniem 😊

Patrzycie na pierwsze zdjęcie , tak długo jak macie ochotę, starając się wszystko zapamiętać co tam jest na mapce , potem robicie 20 jakiś ćwiczeń na grzbiety 🧘‍♀️ 🧘‍♀️ 😊 - dowolnych , ale zróbcie to solidnie. Dopiero wtedy przechodzicie to drugiego zdjęcia i odpowiadacie na pytania . Moje zaufanie do Was polega na tym, że WIERZĘ iż nie wróćcie do wcześniejszego zdjęcia aby popatrzeć na nie i prawidłowo odpowiedzieć na pytania. Przechodzicie do kolejnego zdjęcia na które też możecie napatrzeć się do woli, robicie 20 ćwiczeń na brzuszki (jak już wychodzimy do lasu to już nie są one takie duże jak w zeszłym tygodniu ) wracamy do zadania i odpowiadamy na pytania dotyczące mapki nr 2 . Przechodzimy dalej patrzymy na kolejne zdjęcie , robimy deskę - młodzież 30 sekund reszta minimum minutę i odpowiadamy na pytania . Odpowiedzi przesyłacie na maila do mnie, nie róbcie tego w arkuszu, bo tam nikt nie sprawdzi i zaginą one Zadanie do pobrania w PDF na <http://tncz.pl/piw/>

Adres mailowy dla przypomnienia  
teresabugaj1209@gmail.com

Zdjęcie nr.1



1 Co jest wyżej położone – ambona czy paśnik ?

a- Ambona

b- Paśnik

c- Znajdują się na tej samej wysokości

2 Która górka jest wyższa ?

a- Położona po N stronie wału ziemnego

b- Położona po S stronie wału ziemnego

c- Obie są na tej samej wysokości


3 Na ilu muldach znajdują się punkty ?

a- Na 3

b- Na 2

c- Na 4 |

Zdjęcie nr.2



1 Ze startu do 1 PK należy biec w kierunku

a- N

b-S

c- E

2 Ile jest dołków ?

a- 3

b-4

c- 5

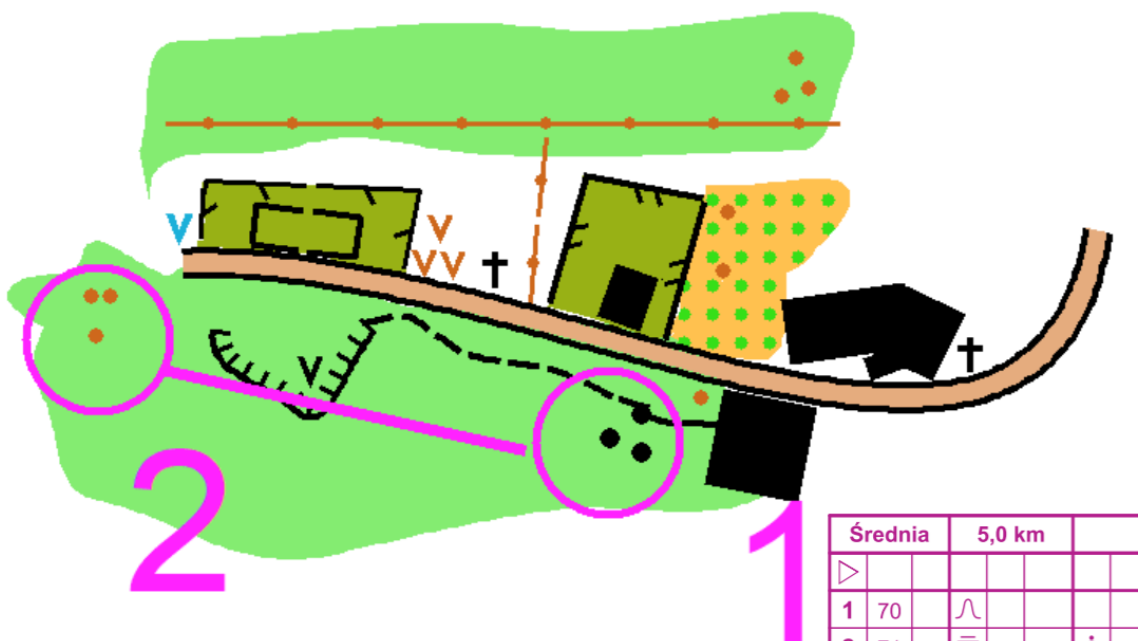
3 jaki jest numer 2PK

a- 61

b-58

c- 59

Zdjęcie nr.3



	Średnia	5,0 km		
▷				
1	70	∩		
2	71	≡		ó
3	46	≡		∧

1 Zniszczony wał ziemny biegnie w kierunku

- a N-S
- b W-E
- c NE-SW

2 Ile jest dołków kamiennych ?

- a- 1
- b- 2
- c- 3

3 Jaka jest długość trasy ?

- a- 5km
- b- 6km
- c- 4 km