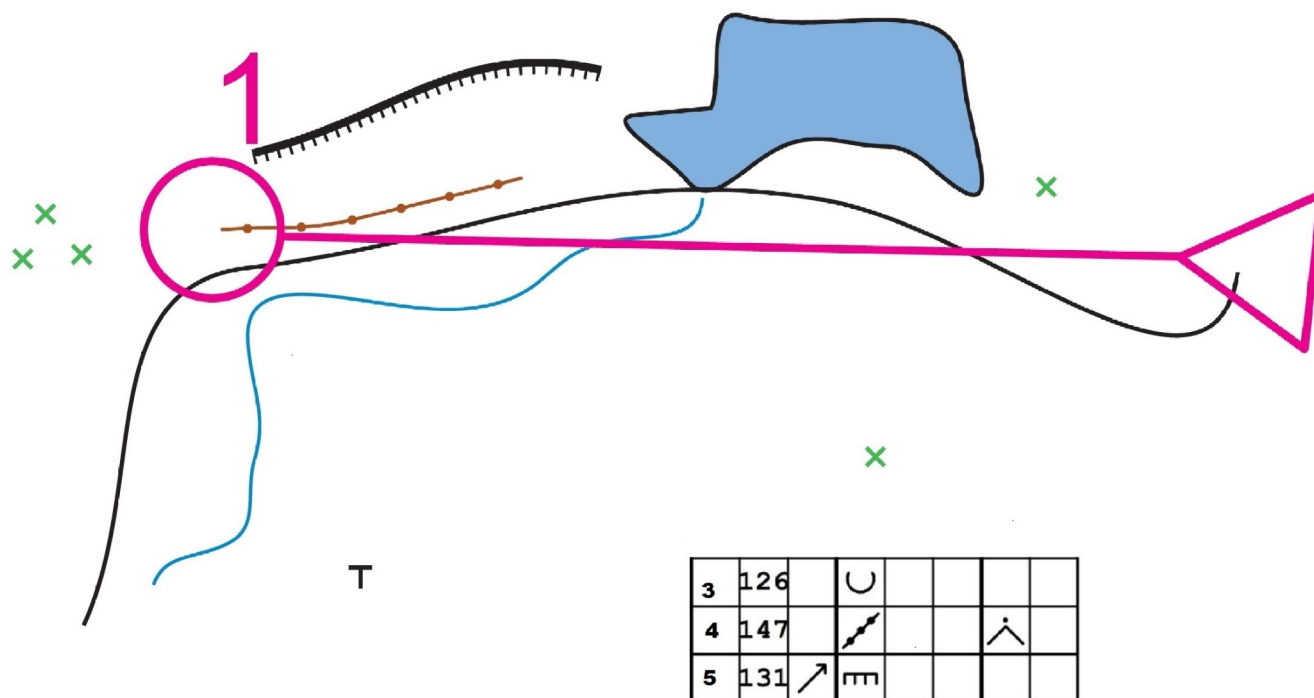


Pamięciówka

Przypatrz się uważnie zdjęciu. Postaraj się zapamiętać wszystko co widzisz i przejdź na następną stronę . Tam znajdują się pytania do zdjęcia 1. Postaraj się odpowiedzieć na pytania ale nie wracając już do poprzedniego zdjęcia. Tak samo postąp z drugim i trzecim zdjęciem .

W celu utrudnienia zadania , możesz pomiędzy odpowiedziami wykonać proste ćwiczenie np. pomiędzy pierwszym zdjęciem a pytaniami do zdjęcia zrób 10 pajacyków, pomiędzy 2 zdjęciem a pytaniami do zdjęcia zrób 10 pompek , a pomiędzy 3 zdjęciem a pytaniami do zdjęcia zrób 20 przysiadów .

ZDJĘCIE NR 1



Pytania do 1 zdjęcia

1. Ile jest wykrotów ?

- a. 4
- b. 5
- c. 3
- d. 2

2. Wał ziemny znajduje się pomiędzy

- a. drogą a półką skalną
- b. strumieniem a jeziorem
- c. strumieniem a drogą
- d. strumieniem a półką skalną

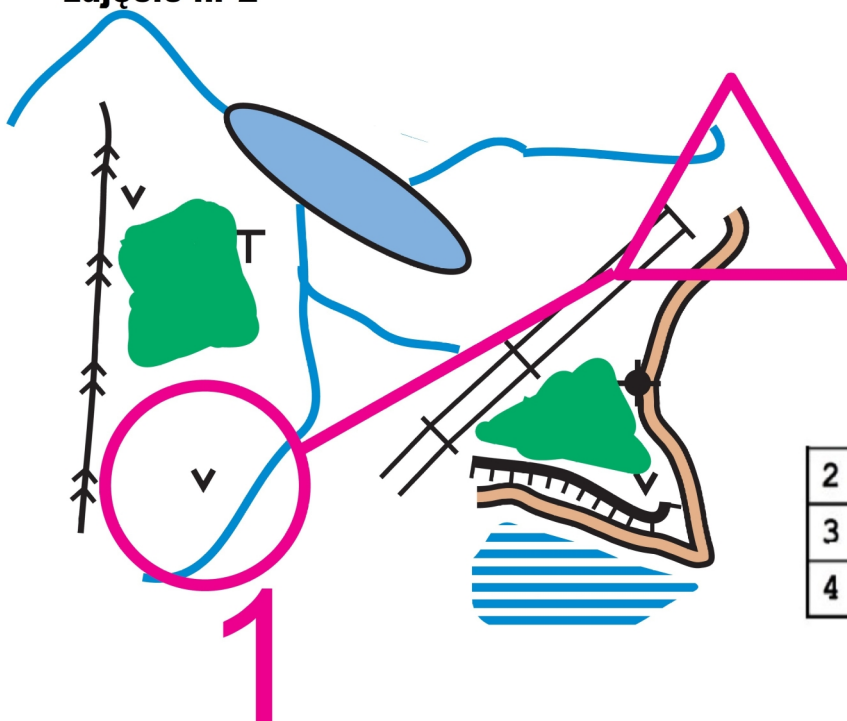
3 Jaki jest numer PK 5 ?

- a. 147
- b. 125
- c. 131
- d. 124

4. PK 3 znajduje się

- a. na górze
- b. w zagłębieniu
- c. na bagnie
- d. w dołku

zdjęcie nr 2



2	47			
3	31		rn	
4	105			

Pytania do zdjęcia nr 2

1. PK 4 znajduje się na

- a. na górze
- b. pomiędzy gęstwianami
- c. w skalnym dołku
- d. przy ambonie

2. Rurociąg przebiega w kierunku

- a. N- S
- b. E-W
- c. NE- SW
- d. NW- SE

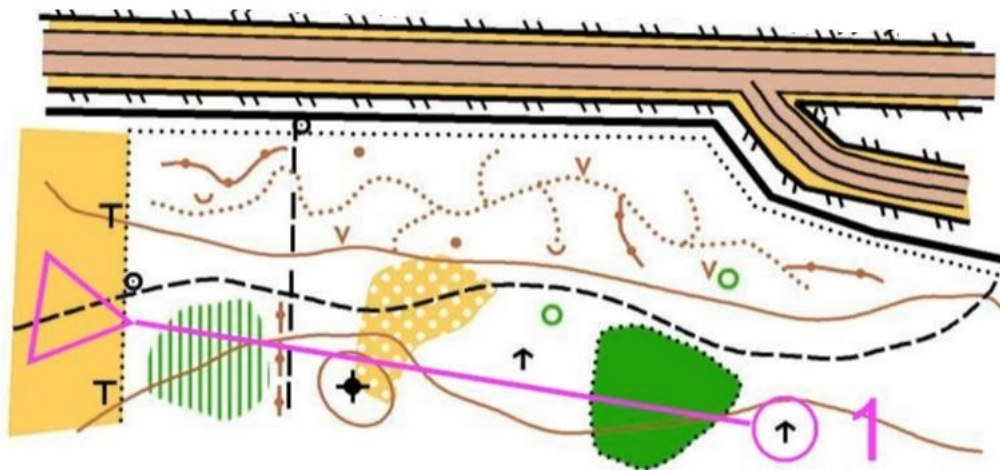
3. Ile strumieni wpada do jeziora ?

- a. 3
- b. 2
- c. 4
- d. 1

4. Po południowej stronie drogi jest

- a. bagno
- b. strumień
- c. wał ziemny
- d. ambona

zdjęcie nr 3



1	54				
2	134				
3	67	T			

Pytania do zdjęcia nr 3

1 .Ile jest paśników?

- a. 1
- b. 3
- c. 4
- d. 2

2.Ze startu na 1 PK powinniśmy biec w kierunku

- a. N
- b. S
- c. E
- d. W

3. PK 3 ma numer

- a. 57
- b. 58
- c. 67
- d. 68

4. Ambony rozdziela

- a. start
- b . dołek
- c. wał ziemny
- d. zagłębienie